


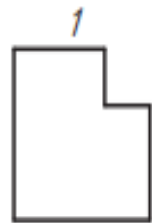
Практическая работа № 7. Способы проецирования

Рассмотрите рисунок и ответьте на вопросы. 1. Как называются изображения, которые обозначены буквами А, Б, В? 2. Как называются изображения, которые обозначены цифрами 1—9? 3. Назовите виды, которым соответствуют рисунки 1—9. 4. Определите, какому изображению предмета (А, Б, В) соответствует каждый вид (1—9). 5. Перечислите детали, которые имеют наклонные грани. 6. Какое геометрическое тело лежит в основе каждой детали?

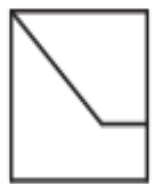
Вариант 1



Вариант 2



Вариант 3



Вариант 4

